



Dr. A. Q. KHAN SCHOOL & COLLEGE, BAHRIA TOWN, PHASE-8, ISLAMABAD

SUMMER TASK JUNE-JULY 2022

SUBJECT: ENGLISH

CLASS: IV

NAME: _____

SECTION: _____

INSTRUCTIONS:

- Please read all the questions first.
- Do your work with a sharpened pencil.
- The first page is for handwriting practice. Try to follow the pattern when attempting the other worksheets.
- Please attempt all the questions. There is ample time and you can complete all of them even if you do one daily.
- This summer task will help you prepare for your first term exams so please take this task seriously.

PROJECT:

Make a chart using pictures or you can draw them yourself. Describe each picture in 1 or 2 sentences and identify the noun, verb, adjective and conjunction. Your chart should have at least 3 pictures. An example is given below:



Two little kids are jumping in the puddle and having fun.

Noun: kids

Adjective: two, little

Verb: jumping

Conjunction: and

Good handwriting never fails to impress. Writing neatly and beautifully is a skill.

Let's Write 

A B C D E F G H I

J K L M N O P Q R

S T U V W X Y Z

a b c d e f g h i j k l m

n o p q r s t u v w y z

Q1. Watch the movie “Charlie and the Chocolate Factory” and write:

- i. a review of the movie. (Discuss what you liked or didn't like about the movie.)
- ii. about your favourite character in the movie: (Which character is your favourite and why do you like it?)

Q2. Write a letter to your cousin inviting him/ her to spend summer holidays with you.

Q3. Write paragraphs on the following:

- i. What I Want to be When I Grow Up
- ii. My Favourite Subject

Q4. Complete the following sentences by using articles (a, an ,the):

- i. I have got _____ plan for that.
- ii. He is _____ best in this subject.
- iii. _____ apple a day keeps the doctor away.
- iv. I am _____ CEO of this company.
- v. I need _____ answer.
- vi. It was _____ easy decision.
- vii. It was _____ pleasure to meet him.

Q5. Re-write the following sentences by using capital letters, commas, full stops and question marks where needed:

- i. mary keeps four dogs three cats and six rabbits in her backyard
- ii. sara tina maryam and veena are going to the park
- iii. the magician took a fluffy white rabbit out of his hat
- iv. yes I would like to apply for this job
- v. when are you going to pay me back

Q6. Fill in the blanks using the correct collective noun from the word bank:

choir	deck	herd	team	fleet
-------	------	------	------	-------

- a _____ of cows
- a _____ of singers
- a _____ of players
- a _____ of cards
- a _____ of ships

Q7. Combine and re-write two sentences given together by using the correct conjunction (and, but, or):

- i. We can go to France. We can go to Italy.
- ii. We were invited to the party. We chose not to go.
- iii. Our cat is white. It is fluffy.

Q8. Select adjectives from the word bank and complete the sentences below.

brave	funny	clever	purple	loud	scared
-------	-------	--------	--------	------	--------

- i. The _____ fireman rescued the _____ cat from the tree.
- ii. Does _____ music hurt your ears?
- iii. We are going out to watch a _____ movie.
- iv. Ali is a _____ boy.
- v. My friend is wearing a _____ dress.

Q9. Fill in the blanks using the correct pointing word in each:

- i. _____ book on the table is mine.
- ii. _____ girl standing there is my sister.
- iii. Can you please pass me _____ dresses?
- iv. _____ is my dog.
- v. Do you know _____ people gathered there?

Q10. Listening and speaking practice:

Listen to the audio clips given on the following link. You can also learn how to speak on a certain topic by listening to these audios. Link: <https://learnenglish.britishcouncil.org/general-english/audio-zone>

Q11. Study and learn the following similes:

- As black as coal
- As blind as a bat
- As cool as a cucumber
- As fresh as a daisy
- As light as a feather
- As cold as ice
- As busy as a bee

Q12. Make your own sentences of the following words:

escape, disappointing, celebrate, essential, frightening

SECOND TERM

Following material will be taught in the second term but is being introduced here so you can go through it and familiarize yourself with the concepts.

VOCABULARY WORDS

Following vocabulary words have been taken from NOME. Please learn them for **dictation**.

escaped	extreme	feather	hedgehog	neighbour
Delicious	squeezed	Tackle	Rescue	musicians
Ambassador	celebrated	disappointing	straight	hedges
Hastily	community	participate	moustache	audience
Engineer	summon	scratching	frightening	entertainment
Opportunity	essential	languages	phantoms	glaciers

SYNONYMS

Synonyms are words that have similar meanings.

1	escape	run away, break free
2	Delicious	tasty
3	celebrate	rejoice, have fun
4	Hastily	quickly
5	Community	society
6	Opportunity	chance
7	Summon	call
8	Essential	important
9	Extreme	intense
10	Squeeze	crush

ANTONYMS

Antonyms are words that have opposite meanings.

1	Tackle	avoid
2	disappointing	satisfactory
3	Participate	absent, quit
4	Rescue	abandon
5	straight	crooked, zigzag
6	frightening	comforting
7	phantoms	actual
8	Neighbor	distant, remote
9	entertainment	boredom
10	Essential	unimportant

GENDER

- Masculine nouns refer to words for a male figure or male member of a species (i.e. man, horse, etc.)
- Feminine nouns refer to female figures or female members of a species (i.e. woman, mare, etc.)

	Masculine	Feminine
1	Lion	Lioness
2	Heir	Heiress

3	Prince	Princess
4	Poet	Poetess
5	Host	Hostess
6	Master	Mistress
7	Hunter	Huntress
8	Emperor	Empress
9	Waiter	Waitress
10	Actor	Actress
11	Tiger	Tigress
12	King	Queen
13	Brother	Sister
14	Drake	Duck
15	Father	Mother
16	Uncle	Aunt
17	Horse	Mare
18	Bull	Cow
19	Nephew	Niece
20	Gentleman	Gentlewoman
21	Washer-man	Washer-woman
22	Landlord	Landlady
23	Hero	Heroine
24	Sir	Madam
25	Bridegroom	Bride

FORMS OF VERBS

Regular verbs are very simple and to create the first (V1), second (V2), third (V3) forms of regular verbs we just add -ed at the end of the base form (V1). The case of irregular verbs is a different one as they do not follow any fixed pattern. You have to memorize them as they are.

V1 Base Form	V2 Past Simple	V3 Past Participle
Arise	arose	arisen
Breed	bred	bred
Draw	drew	drawn
Feel	felt	felt
Hit	hit	hit
Lean	leaned	leaned
Swear	swore	sworn
Begin	began	begun
Buy	bought	bought
Fall	fell	fallen
Hear	heard	heard
Lay	laid	laid
String	strung	strung
Tell	told	told
Beat	beat	beaten
Burn	burnt	burnt
Dwell	dwelt	dwelt
Hang	hung	hung
Kneel	knelt	knelt
Stink	stank	stunk
Teach	taught	taught
Awake	awoke	awoken
Bring	brought	brought
Dream	dreamt	dreamt
Fight	fought	fought
Hold	held	held

Steal	stole	stolen
Sweep	swept	swept
Bear	bore	born
Build	built	built
Drive	drove	driven
Grow	grew	grown
Keep	kept	kept
Sting	stung	stung
Swing	swung	swung
Be	was/were	been
Broadcast	broadcast	broadcast
Drink	drank	drunk
Grind	ground	ground
Hurt	hurt	hurt
Stick	stuck	stuck
Swim	swam	swum
Abide	abode	abode



بِسْمِ اللَّهِ الرَّحْمَنِ الرَّحِيمِ

In the name of Allah, the most gracious, the most merciful

DR AQ KHAN SCHOOL AND COLLEGE, BAHRIA TOWN PHASE-8, ISLAMABAD

SUBJECT: MATHEMATICS

CLASS: IV

SUMMER PACK

Name: _____

Section: _____

Q1. Fill in the blanks.

- a) _____ is neither prime nor a composite number.
- b) In 3256×28 ; **28** is called the _____.
- c) The common factors of 12 and 18 are 2, 3, and _____.
- d) $200000 + 00000 + 0000 + 400 + 50 + 9$ is _____.
- e) Like fractions have the _____ denominator.
- f) The predecessor of **600 000** is _____.
- g) A number is divisible by _____ if it has 5 at the unit place.
- h) The number left in long division is called _____.
- i) If a number has 0 at the unit place, it is divisible by _____.
- j) 50 is a _____ number.
- k) Prime factor can never be _____ number.
- l) The common factor of 32 and 4 are 2 and _____.
- m) The first four multiples of 10 are _____.
- n) In a fraction, if the numerator is smaller than denominator then it is _____ fraction.
- o) The combination of whole number and improper fraction is called _____.
- p) $\frac{3}{7}$ is a _____ fraction.

Q2. Complete the given number patterns.

11	22	33	44				
40	35	30	25				
25	50	100	200				
39	43	47	51				

Q3. Find prime factors of these numbers using division method.

- a) 333

d) 520

e) 84

Q4: Find the common factors of each of the following sets.

a) 14, 49, 23



b) 18, 27, 39

c) 15, 12 and 36

d) 14, 49 and 28

b) 10, 15 and 25

c) 36, 60 and 72

d) 11, 22 and 44

e) 16, 48 and 96

f) 18 and 24

Q6. Adding the following fraction

a) $\frac{9}{10} + \frac{3}{10}$

c) $\frac{3}{15} + \frac{8}{15}$

b) $30 \div \frac{1}{20}$

d) $\frac{2}{3} \div 6$

Q10. Write these vertically and subtract.

a) $25670 - 10302$

b) $50\ 000 - 36082$

c) $75000 - 12525$

d) $36738 - 12849$

Q11. Write the number which is

a) 900 more than 60100

b) 200 more than 2500

c) 1000 more than 20000

d) 400 more than 50960

Q12. There are 1440 minutes in a day. How many minutes are there in 8 weeks?

Q13. Thirty children made 5280 paper bags. How many did each child make?

Q14. In an election, Mr. Kamal got 56720 votes and Mrs Abid got 58986 votes. Who got more votes and how many more?

Q15. Find the difference between the largest 4 digit number and the smallest 5 digit number.

Q16. A shopkeeper earned Rs. 70920 in one year. If his expenses for the same year were Rs. 59486, how much money did he save?

Q17. How many pieces of cloth can be cut from a 1550 m long cloth, if each piece is 25m long?

Q18. Write the numbers in expanded form:

a. 152796

b. 627051

c. 318248

d. 904870

e. 530612

Q17. Write the predecessor of the following.

a. 682817

b. 85620

Q18. Write the numbers in ascending and descending order.

a. **34829, 34769, 34932, 33199**

b. **90195, 90145, 90159, 90194**



CLASS IV

SUBJECT: COMPUTER



Dr. A. Q. KHAN SCHOOL & COLLEGE, BAHRIA TOWN, PHASE-8, ISLAMABAD

Note : Watch the video by opening the link (<https://youtu.be/sTc4kVUnoA>) and answer the following questions.

1. Fill the table below:

Generation	Technology Used
First Generation	
Second Generation	
Third Generation	
Fourth Generation	
Fifth Generation	

2. What is a vacuum tube?

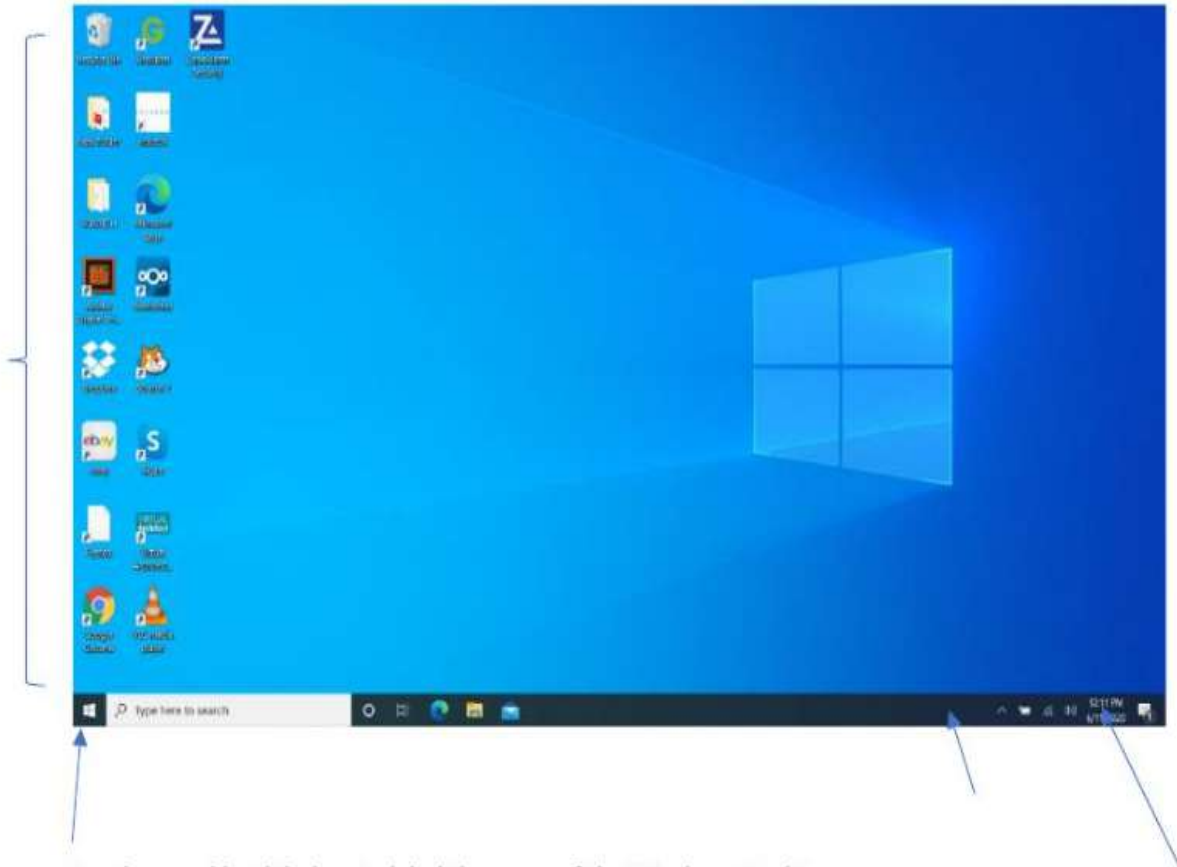
3. What is a transistor?

4. What is an Integrated circuit?

5. What is a CPU?



Dr. A. Q. KHAN SCHOOL & COLLEGE, BAHRIA TOWN, PHASE-8, ISLAMABAD



Use the word bank below to label the parts of the Windows Desktop

TASKBAR	WALLPAPER	CLOCK	APP ICONS
START MENU BUTTON			



Q1 Rewrite the following statements in the correct order

Windows desktop

- 1) on have the nice a background I picture _____
- 2) is the bottom the desktop task of bar My at _____
- 3) Explorer is icon next documents my to Internet _____
- 4) my a shortcuts desktop There lot on of are _____
- 5) bin The recycle empty is _____
- 6) quick I use don't launch _____
- 7) Close red button is _____
- 8) area notification the are on Clock volume control and

- 9) in folders the are Files stored _____
- 10) I on a Start menu button click open to _____

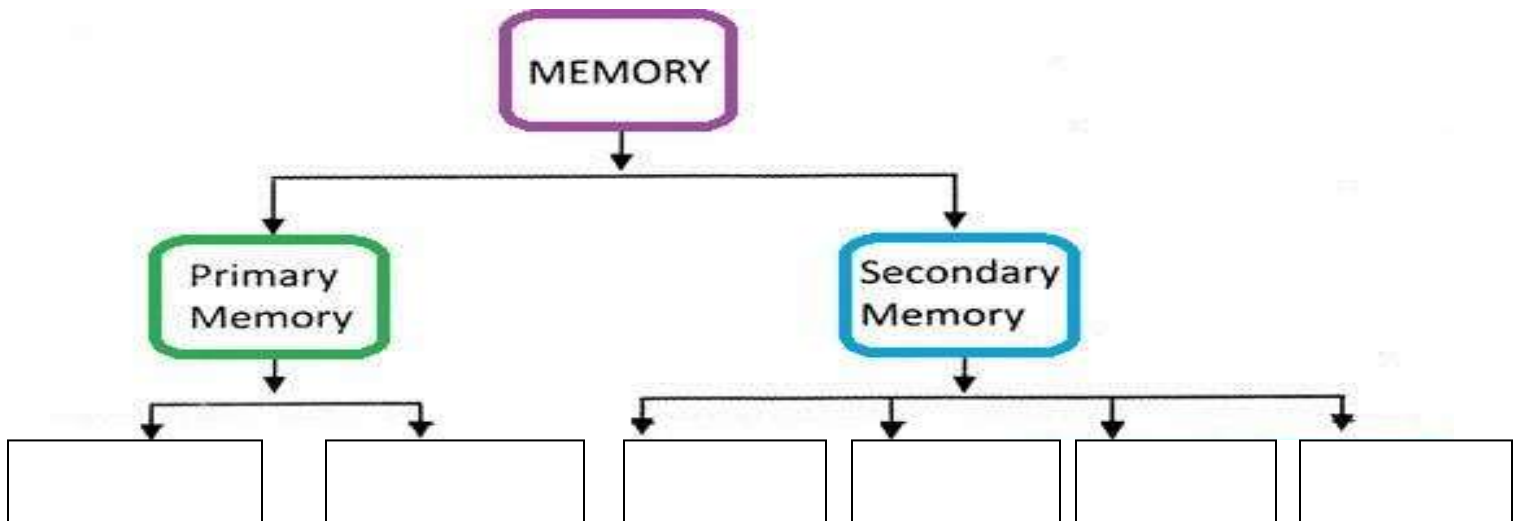




Q1 Match the following and learn.

Column A	Column B
Bit	8 Bits
Byte	1 binary digit
Kilobyte (KB)	1,024 Megabyte
Megabyte (MB)	1,024 bytes
Gigabyte(GB)	1,024 Kilobyte

Q2 Complete the following chart





Summer vacation task

SUBJECT: GENERAL SCIENCE

CLASS: IV

Q1. Fill in the blanks.

- i. Animals that keep the body temperature same is called _____.
 - ii. Vertebrates have _____ skeleton.
 - iii. Invertebrates have _____ skeleton.
 - iv. Non-flowering plants do not produce _____ and _____.
 - v. Ferns reproduce by making _____.
 - vi. In angiosperms seeds are contained within their _____.
 - vii. _____ make up the frame work of our body.
 - viii. The place where two bones meet is called a _____.
 - ix. An adult human has _____ bones.
 - x. _____ is a gas that living things need to live and grow.
 - xi. Animals have _____ lungs.
 - xii. Our heart is divided into _____ chambers.
 - xiii. Small intestine is _____ meters long.
 - xiv. Large intestine is _____ meters long.
 - xv. The study of plants is called _____.
 - xvi. The process of making food in leaves is called _____.
 - xvii. _____ is a process that involves water evaporation from a plant.
 - xviii. Xylem tubes carry _____ from root to the leaves.
 - xix. Phloem tubes carry _____ from leaves to other parts of plant.
 - xx. The regions around the _____ cover the tropical zone.
 - xxi. The climate of temperate zone is _____ as the rays of sun falling on it are slanted.
 - xxii. The areas around the _____ and _____ poles are the polar zones.
 - xxiii. In summer, at places near water, air temperature is _____ than at places on land.
 - xxiv. In winter water stays _____ than land.
 - xxv. A region's _____ is determined by the direction in which sun rays fall over it.
-

Q2. Paste pictures of vertebrates and invertebrates and write their characteristics which make them either vertebrate or invertebrate.

Pictures	
Characteristics	

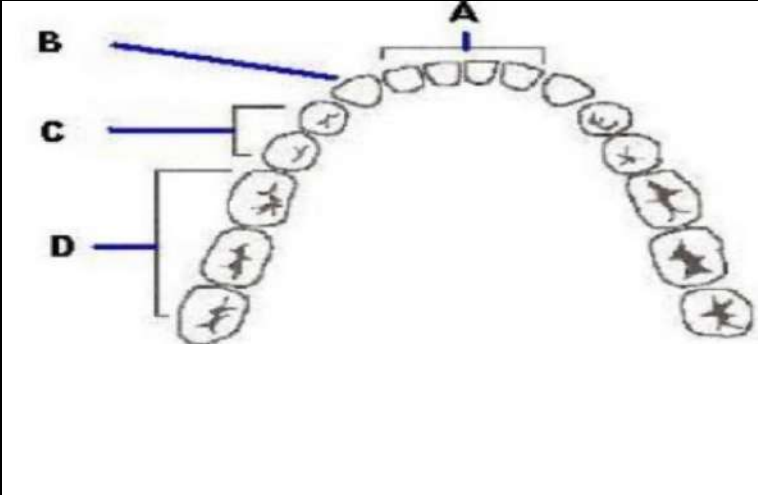
Pictures	
Characteristics	

Q3. Paste pictures of flowering and non- flowering plants and write their characteristics which make them either flowering or non-flowering.

Pictures	
Characteristics	

Pictures	
Characteristics	

Q4. Label the teeth. describe your favourite food, then explain which teeth would be used to help you eat that food.



The diagram shows a top-down view of a human dental arch. Label A points to the central incisors. Label B points to the canines. Label C points to the premolars. Label D points to the molars.

A _____
B _____
C _____
D _____

Q 5. Draw and label the parts of lungs. Also tell what happens when you breath in and what happens when you breath out.


Q6. Create a weather chart for your city. Measure your city temperature every day for a week and also note down weather conditions such as rain, sun, haze or hailstorm.



Dr. A. Q. KHAN SCHOOL & COLLEGE, BAHRIA TOWN, PHASE-8, ISLAMABAD
SUMMER VACATION TASK
SUBJECT: SOCIAL STUDIES
CLASS: IV

COUNTRY: _____

Draw or paste the map of your country.



Draw your country's flag.



FOODS

DETAILS

Continent: _____

-

President: _____

-

**Capital
City:** _____

Provinces: _____

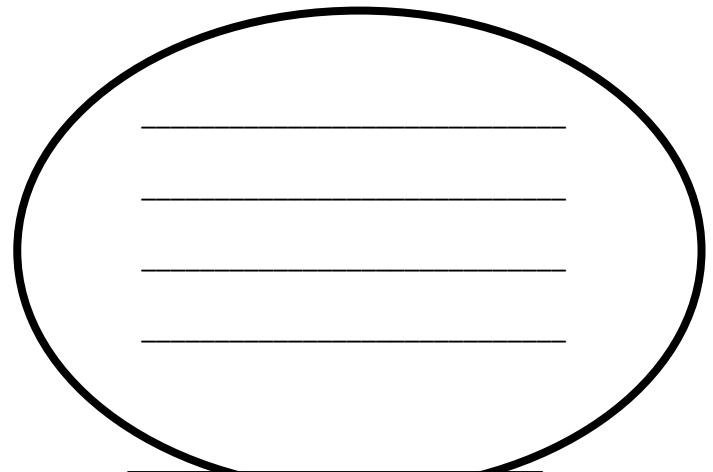
-

-

Population: _____


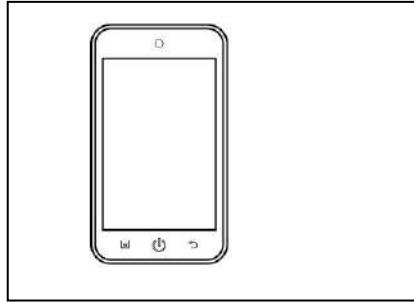
-


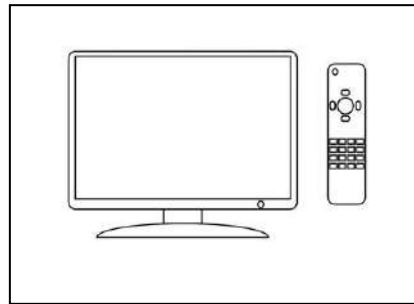
Languages: _____



FAMOUS PEOPLE

Now write the following means of Communication.





1. Who is Alexander Graham Bell?



2. Who is Thomas Edison?



Complete the following tables.



Name : _____

Date of Birth	
Place of Birth	
Profession	
Title	
Death	




Name: _____

Date of Birth	
Place of Birth	
Profession	
Title	
Death	

Using the internet write about these ancient civilizations.




EGYPTIAN



<u>LOCATION</u>
<u>TIME PERIOD</u>
<u>MAJOR INVENTIONS</u>



MESOPOTAMIAN




<u>LOCATION</u>
<u>TIME PERIOD</u>
<u>MAJOR INVENTIONS</u>

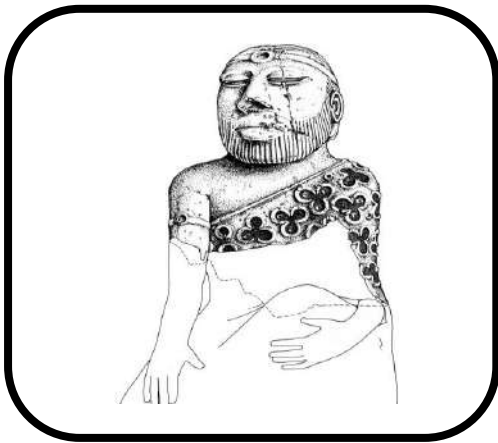
<u>LOCATION</u>




CHINESE




<u>TIME PERIOD</u>
<u>MAJOR INVENTIONS</u>




INDUS VALLEY



<u>LOCATION</u>
<u>TIME PERIOD</u>
<u>MAJOR INVENTIONS</u>

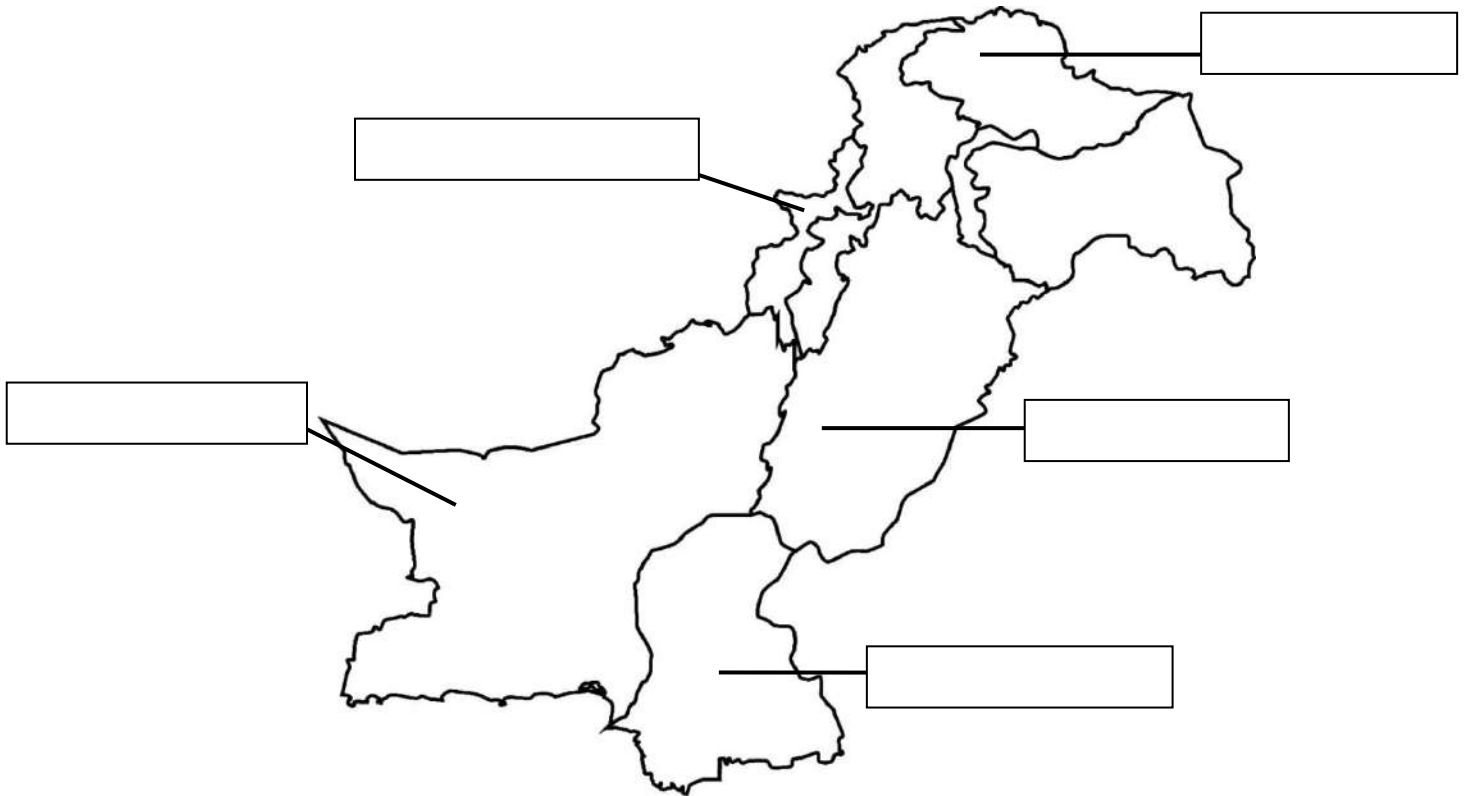


MOHENJO DARO



<u>LOCATION</u>
<u>TIME PERIOD</u>
<u>MAJOR INVENTIONS</u>

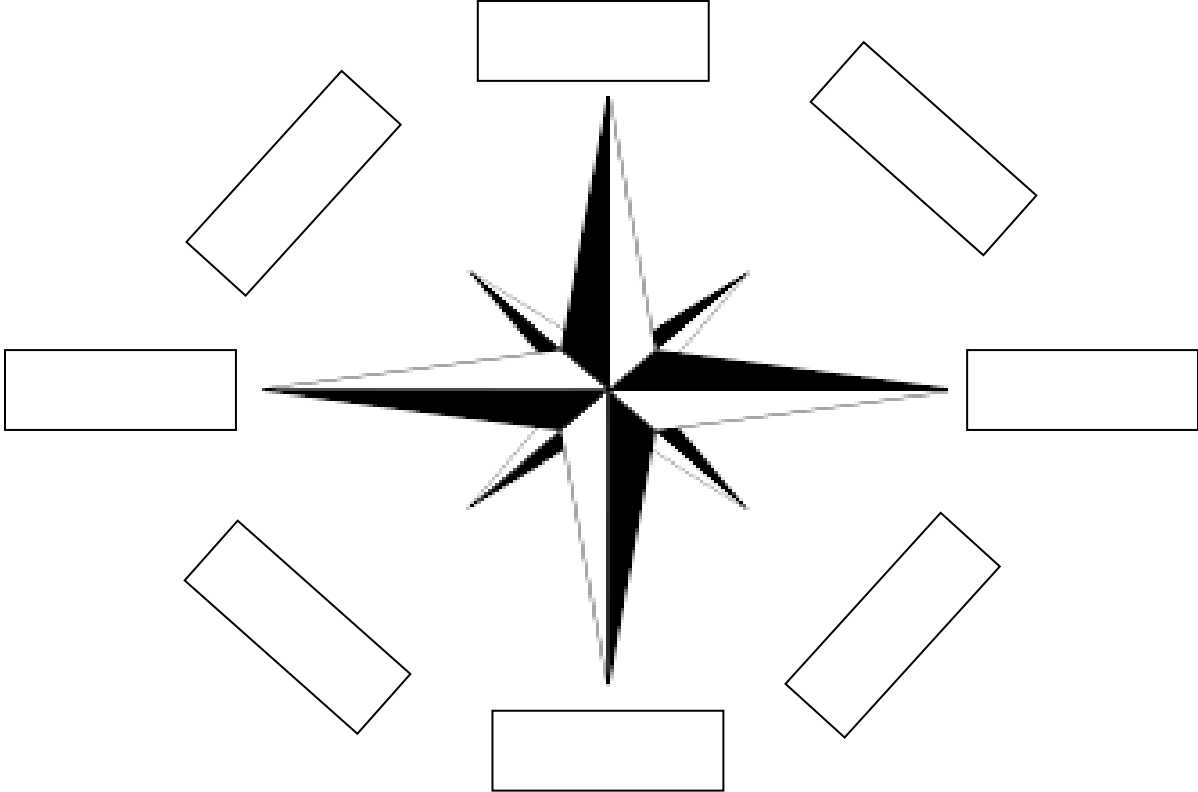
Label the provinces on the map of Pakistan and colour it.



Look at a world map in an atlas or globe and fill in the following table.

Ser. No	Name of the Country	Capital City	Continent
1.	China		
2.	Italy		
3.	Germany		
4.	France		
5.	New Zealand		
6.	Russia		
7.	Turkey		
8.	Saudi Arabia		
9.	Brazil		
10.	Canada		

Write the cardinal and intermediate directions on the compass rose.



Do the drawing or pasting activity of landforms with the help of links given below.

<http://images.app.goo.gl/XZpyH7K6JB2TZkWPA>

<http://images.app.goo.gl/6pGsdKyhqKSCc3NF8>

ڈاکٹر اے کیو خان سکول اینڈ کالج، بحریہ ٹاؤن فیزہ ۸
مضمون: اسلامیات
جماعت: چہارم



ہدایات

ڈاکٹر اے کیو خان سکول اینڈ کالج، بحریہ ٹاؤن فیزا ۸
مضمون: اسلامیات
جماعت: چہارم



- ۱۔ طلباء و طالبات تمام کام والدین کی زیر نگرانی کریں گے۔
- ۲۔ کام بھر پور توجہ سے کریں تاکہ کام غلطیوں سے مبرا ہو۔
- ۳۔ کاپی اور کتاب پر کرواتے گئے تمام کام کو امتحان کی تیاری کے لیے اچھی طرح دہرائی کریں۔

حفظ:

سورۃ الماعون، سورۃ الکوثر،

ناظرہ:

پارہ نمبر ۹ اور ۱۰

تخلیقی سرگرمیاں

- ۱۔ آپ نے عید الاضحیٰ کیسے منائی؟ ایک پیرا گراف تحریر کریں۔
- ۲۔ نمازوں کا ایک چارٹ بنائیں اور پانچ نمازوں کے نام بمع رکعات تحریر کریں۔
- ۳۔ فیصل مسجد کی سیر کریں۔ چارٹ پیپر پر فیصل مسجد کی تصویر بنائیں اور اس کے بارے میں چند سطور لکھیں۔
- ۴۔ اللہ تعالیٰ کے دس نام اچھی لکھائی کے ساتھ چارٹ پر لکھیں اور رنگ بھریں۔

روزہ

درست بیان پر دائرہ لگائیں۔

۱۔ عربی زبان میں روزے کو کہتے ہیں:

ب. صلوة

الف. صوم

ڈاکٹر اے کیو خان سکول اینڈ کالج ، بحریہ ٹاؤن فیڑا
مضمون: اسلامیات
جماعت: چہارم



ج۔ زکوٰۃ

د۔ صدقہ

۲۔ رمضان کے روزے امت مسلمہ پر ہیں:

الف۔ مستحب

ب۔ فرض

ج۔ سنت

د۔ واجب

۱۔ رمضان میں اعتکاف کرنا سنت ہے:

الف۔ پہلے عشرے میں

ب۔ دوسرے عشرے میں

ج۔ تیسرے عشرے میں

د۔ پورے مہینے میں

قرآن مجید کی رو سے روزہ کا مقصد کیا ہے۔

الف۔ تقویٰ

ب۔ اخلاص

ج۔ سچائی

د۔ دیانت داری

روزہ

مندرجہ ذیل سوالات کے جوابات لکھیں۔

س ۱۔ روزے کے دو فوائد لکھیں۔

ڈاکٹر اے کیو خان سکول اینڈ کالج، بحریہ ٹاؤن فیزا ۸
مضمون: اسلامیات
جماعت: چہارم



س ۲۔ شریعت کی اصطلاح میں روزے سے کیا مراد ہے؟

س ۳۔ روزے کی فرضیت کے بارے میں قرآن مجید کی ایک آیت کا ترجمہ
لکھیں۔

عنوان: حقوق اللہ

خالی جگہ پر کریں۔

- ۱۔ ہر انسان پر لازم ہے کہ وہ اللہ تعالیٰ کو _____ مانے۔
- ۲۔ اللہ تعالیٰ نے سورج، چاند اور ستارے سب _____ کے فائدے کے لیے پیدا کیے۔

ڈاکٹر اے کیو خان سکول اینڈ کالج، بحریہ ٹاؤن فیزہ ۸
مضمون: اسلامیات
جماعت: چہارم



۳۔ جو نعمتیں اللہ تعالیٰ نے اسے عطا کی ہیں _____ سے ان کا اعتراف کریں۔

۴۔ ہر چھوٹی بڑی چیز کے لیے بھی _____ دعا مانگنی چاہیے۔

۵۔ اللہ تعالیٰ کے سوا کوئی بندے کی _____ دور کرنے والا نہیں ہے۔

مندرجہ ذیل سوالات کے جوابات لکھیں۔

س ۱۔ حقوق اللہ سے کیا مراد ہے؟

س ۲۔ اہم عبادات کون سی ہیں؟

عنوان: حقوق اللہ

درست بیان پر دائرہ لگائیں۔

۱۔ اللہ تعالیٰ نے بہترین شکل و صورت پر پیدا کیا۔

الف۔ انسان کو

ب۔ حیوان کو

ج۔ درندوں

کو

ڈاکٹر اے کیو خان سکول اینڈ کالج ، بحریہ ٹاؤن فیز ۸
مضمون: اسلامیات
جماعت : چہارم



۲۔ دنیا کی ہر چیز پیدا کی گئی :

الف۔ پرندوں کے لیے
ب۔ فرشتوں کے لیے
ج۔ انسانوں کے
لیے

مندرجہ ذیل سوالات کے جوابات لکھیں۔

س ۱۔ حقوق اللہ سے کیا مراد ہے ؟

س ۲۔ اہم عبادات کون سی ہیں ؟

ڈاکٹر اے کیو خان سکول اینڈ کالج، بحریہ ٹاؤن فیزا ۸
مضمون: اسلامیات
جماعت: چہارم



عنوان: تلاوت قرآن مجید

۱۔ قرآن مجید کی تلاوت شروع کرنے سے پہلے _____ کر لینا چاہیے۔

۲۔ قرآن مجید کی تلاوت درست تلفظ کے ساتھ _____ کر کر نی چاہیے۔

۳۔ قرآن مجید کی تلاوت کے دوران _____ کی باتیں نہیں کرنی چاہیں۔

۴۔ جب قرآن مجید پڑھا جا رہا ہو تو خاموشی اور _____ سے سنیں۔

۵۔ نماز کے دوران قرآن مجید کی تلاوت _____ میں کرنی چاہیے۔

مندرجہ ذیل سوالات کے جوابات لکھیں۔

س ۱۔ قرآن مجید کی تلاوت کی فضیلت کے بارے میں حدیث کا ترجمہ لکھیں؟

س ۲۔ الم پڑھنے پر کتنی نیکیاں ملتی ہیں؟

ڈاکٹر اے کیو خان سکول اینڈ کالج ، بحریہ ٹاؤن فیڑا
مضمون: اسلامیات
جماعت : چہارم



عنوان : تلاوت قرآن مجید

درست بیان پر دائرہ لگائیں۔

اتلاوت شروع کرنے سے پہلے پڑھنا چاہیے :

الف۔ اللہ اکبر

ب۔ استغفر اللہ

ج۔ تعوذو تسمیہ

د۔ سبحان اللہ

۲۔ انسانوں کی رہنمائی کے لیے آخری کتاب ہے:

الف۔ انجیل مقدس

ب۔ قرآن

مجید

ج۔ زبور مقدس

د۔ تورات مقدس

۳۔ قرآن مجید نازل کیا گیا :

الف۔ حضرت موسیٰ علیہ السلام پر

ب۔ حضرت داؤد علیہ السلام پر

ج۔ حضرت عیسیٰ علیہ السلام پر

د۔ حضرت محمد ﷺ پر

۲۔ قرآن مجید نازل ہوا:

ڈاکٹر اے کیو خان سکول اینڈ کالج ، بحریہ ٹاؤن فیزہ ۸
مضمون: اسلامیات
جماعت: چہارم



الف۔ شب قدر میں
ب۔ شب معراج
میں

ج۔ شب عاشورہ میں
د۔ شب برات میں
درست بیان پر دائرہ لگائیں۔
۱۔ آخری آسمانی کتاب ہے۔

الف۔ تورات
ب۔ زبور
ج۔ قرآن
مجید

۲۔ قرآن مجید کی زبان ہے:

الف۔ عربی
ب۔ اردو
ج۔ فارسی

ڈاکٹر اے کیو خان سکول اینڈ کالج، بحریہ ٹاؤن فیڑا
مضمون: اسلامیات
جماعت: چہارم



۳۔ قرآن مجید نازل کیا گیا

الف۔ ایک ملک کے لیے
ب۔ ایک قوم کے لیے
ج۔ سب انسانوں کے
لیے

س۔ کالم ملائیں۔

کالم الف	کالم ب
تورات	حضرت محمد ﷺ
زبور	حضرت عیسیٰ علیہ السلام
انجیل	حضرت موسیٰ علیہ السلام
قرآن مجید	حضرت موسیٰ علیہ السلام

ڈاکٹر اے کیو خان سکول اینڈ کالج، بحریہ ٹاؤن فیزہ ۸
مضمون: اسلامیات
جماعت: چہارم



س۔ درج ذیل سوالات کے جوابات دیں۔
۱۔ کراما کاتبین کی ذمہ داریاں لکھیں۔

۲۔ فرشتوں کے بارے میں قرآن مجید میں کیا ارشاد باری تعالیٰ ہے؟

س۔ کالم ملائیں۔

کالم ب	کالم الف
صور پھونکنا	حضرت جبرئیل علیہ السلام
روح نکالنا	حضرت میکائیل علیہ السلام
نبیوں کی طرف وحی لے کر آنا	حضرت اسرافیل علیہ السلام
بارش اور روزی پہنچانا	حضرت عزرائیل علیہ السلام



مضمون: اردو

جماعت: چہارم

قواعد: سابقے لاحقے

نام: _____

سابقے:

سابقے کا لفظ "سبق" سے نکلا ہے جس سے مراد اگلا، پہلا، اول وغیرہ ہے۔ یعنی سابقے سے مراد وہ علامت ہے جو کسی لفظ کے آگے لگانے سے نیا لفظ بن جائے
مثلاً:

لا	لاعلم	لایتا	لاپرواہ
ان	ان پڑھ	ان جان	ان مول
غیر	غیر حاضر	غیر ضروری	غیر محفوظ
اہل	اہل محلہ	اہل علاقہ	اہل

لاحقے:

کسی لفظ کے آخر میں کوئی علامت لگا کر نیا لفظ بنانے کو لاحقے کہتے ہیں۔

مثلاً:

ناک	ہیبت ناک	خطر ناک	خوف ناک
-----	----------	---------	---------

سرگرمی نمبر ۱: مندرجہ ذیل سابقوں سے نئے لفظ بنائیں۔

نا			
----	--	--	--

			بے
			قابل

لاحقے:

مند			
انگیز			
پوش			

سرگرمی نمبر ۲: مندرجہ ذیل سابقوں لاحقوں سے نئے لفظ بنا کر جملوں میں استعمال کریں۔

	کوڑے دان	دان
	مزے دار	دار
	قابل استعمال	قابل

ڈاکٹر اے کیو خان کالج آف سائنس اینڈ ٹیکنالوجی بحریہ ٹاؤن فیز ۸
مضمون: اردو

جماعت: چہارم

قواعد: اسم معرفہ ، اسم نکرہ



نام -----

سوال: درج ذیل جملوں میں سے اسم معرفہ اور اسم نکرہ الگ کریں۔

اسم نکرہ	اسم معرفہ	جملے
		خالدہ کھیر بنا رہی ہے ۔
		مجھے گلاب کا پھول پسند ہے ۔
		پاکستان ہمارا وطن ہے ۔
		حنا پارک میں کھیلنے گئی۔
		علی نے کتاب پڑھی۔
		احمد کو سیر کا شوق ہے ۔
		اسلام آباد خوبصورت شہر ہے ۔
		فاطمہ کرسی پر بیٹھی ہے ۔
		علامہ اقبال ایک عظیم شاعر تھے ۔
		قرآن مجید دنیا کی مقدس ترین کتاب ہے ۔

ڈاکٹر اے کیو خان کالج آف سائنس اینڈ ٹیکنالوجی بحریہ ٹا

ون فیز ۸



مضمون: اردو

جماعت: چہارم

قواعد: حرف جار

نام _____

سرگرمی :


نیچے دیے گئے جملوں کو کا، کے، پر، میں، نے، تک، سے، کی کی مدد

سے مکمل کریں ۔

- ۱) بس سٹاپ ----- ہجوم تھا۔
- ۲) برتن الماری ----- اندر رکھ دو۔
- ۳) آمنہ ----- کھیر پکائی ۔
- ۴) علی ----- قلم خوبصورت ہے ۔
- ۵) شام ----- پڑھ لو۔
- ۶) مچھلیاں پانی ----- تیر رہی ہیں ۔
- ۷) سیرت ----- بلی پیاری ہے ۔

س: درج ذیل تصاویر کو غور سے دیکھیں اور کہانی لکھیں ۔

مددگار الفاظ: کبوتر ، جال ، دانہ پھنس ، ارادہ ، نصیحت ، لے اُڑے



سر گرمی :

مرکب الفاظ:

بعض الفاظ دو لفظوں کا ہجوم ہوتے ہیں۔ ایسے الفاظ کو "مرکب الفاظ" کہتے ہیں۔ جیسے
سچ مچ، کیڑے مکوڑے وغیرہ

نیچے دیئے گئے لفظوں کو مثال کے مطابق صحیح لفظ سے ملائیں۔

موٹ	گرما
باد	جھوٹ
مذاق	خون
گرم	مہنگی
سکھ	دکھ
ترین	ہنسی
خرابا	شاد