



DR. A. Q. KHAN SCHOOL & COLLEGE, BAHRIA TOWN, PHASE-8, ISLAMABAD

SUMMER TASK JUNE - JULY, 2022

SUBJECT: ENGLISH

CLASS: V

NAME: _____

SECTION: _____

INSTRUCTIONS:

- Please read all the questions first.
- Please complete all the worksheets. There is ample time and you can complete all of them even if you do one daily.
- These worksheets will help you prepare for your first term exams so please take this task seriously.

Q1 Tell whether the underlined words are countable or uncountable nouns and write in front of them.

- a. The children fell asleep quickly after a busy day of fun. _____
- b. Be careful! The water is deep. _____
- c. The parade included fire trucks and police cars. _____
- d. We like the large bottles of mineral water. _____
- e. My mother uses real butter in the cakes she bakes. _____
- f. How many politicians does it take to pass a simple law? _____
- g. Most kids like milk, but Joey hates it. _____
- h. Most pottery is made of clay. _____
- i. Michael can play several different musical instruments. _____
- j. I was feeling so stressed that I ate an entire box of cookies. _____

Q2 Read the following given sentences and identify the common or proper nouns in them.

1. I gave my book to Riya to read.
2. The Taj Mahal in India is very beautiful.
3. Red Riding Hood met the fox in the forest.
4. Mr. Tony Stark walks his dog every day.
5. The boy ran to his mother.
6. The flat was in the middle of Lenin Street.
7. The reporter went to Noida to collect news.
8. This milk tastes sour.
9. Rose is a beautiful girl.
10. I have read the novel by Emily Bronte.
11. King Arthur was a noble king.
12. The Indian Express is the newspaper I read regularly.
13. Sheldon Cooper is an intelligent physicist.
14. J.K Rowling wrote the famous novels on Harry Potter.
15. My uncle works in the Reserve Bank of India

Q3 Complete each sentence by choosing the correct collective noun from the box.

shoal	swarm	pride	flight
herd	litter	school	band
pack	troop	flock	bunch

1. Swimming in the shallow water was a _____ of herrings.
2. A _____ of sheep was happily grazing in the field.
3. All night we could hear the _____ of wolves howling.
4. The _____ of lions slept all day on the African plains.

5. A long _____ of steps led to the top of the tower.
6. Our cat has just had a _____ of seven kittens.
7. We each picked a _____ of juicy grapes from the vine.
8. A _____ of thieves stole the precious diamonds.
9. In the jungle, we could see a _____ of monkeys swinging in the trees.
10. An enormous _____ of locusts ate all the crops.
11. The _____ of elephants stomped through the water hole.
12. We were in awe as we watched the _____ of whales swimming.

Q4 Put adverb in the right place in the sentence:

a. She goes to bed early (always)

b. We watch TV (never)

c. Julie and Tom go to the cinema (often)

d. Alex meets John (once a week)

e. I eat fast food (sometimes)

f. They cook at home (hardly ever)

g. He studies English (every night)

h. You drink coffee (normally)

i. I go to the park (rarely)

j. They go to a restaurant (from time to time)

Q5 Find the two words in each sentence that can make a contraction and underline them. Then, write the contraction on the line.

1. If we know this, we will make some money for sure!

we'll

2. Rocky has not given up the fight yet.

3. They are going to help us get through this.

4. He does not seem to understand simple instructions.

5. She will go to the dance with you.

6. I will not give up my dreams for this.

7. It would not be that hard for him.

8. Who are these people and what do they want?

9. I could not stop if I tried.

10. How is that project coming along?

11. If it were not for his behavior, the class would be eating lunch now.

12. Ask as many questions as you want; it is your business.

13. If I were you, I would try a little harder.

14. I have given up on waiting for her.

15. I hate cupcakes: they will be the death of me.

Abbreviations

Abbreviations are a shorter form of a word or phrase.

Q8 Abbreviate each word given below.

Example A: Thursday

Answer: Thurs.

Days of the week and months

Monday _____

January _____

Wednesday _____

February _____

Friday _____

August _____

States People and Places

North Carolina _____

California _____

Mister _____

New York _____

Misses _____

Florida _____

Doctor _____

Preposition

Q9 Use the correct preposition from the word bank to complete each sentence. Write the correct preposition on the blank line.

in	off	above	near	to
of	behind	with	beside	below

1. The balloon flew _____ my head.

2. The setting sun went _____ the horizon.

Q11 Read the following Units from NOME:

- i. Unit: 4 'Robinson Crusoe' Page no. 32-35
- ii. Unit:7 'Bahlol' Page no. 69-71
- iii. Unit:9 'A flash of Light' Page no. 91-93

Q12 Listening and speaking practice:

Listen to the audio clips given on the following link. They have exercises which will help you check your listening skills. You can also learn how to speak on a certain topic by listening to these audios.

Link: <https://learnenglish.britishcouncil.org/general-english/audio-zone>



Dr. A.Q. KHAN SCHOOL & COLLEGE, BAHRIA TOWN PHASE -8
SUMMER VACATION TASK
SUBJECT: GENERAL SCIENCE

Unit #3: Topic: Flowers and seeds

Q1: Fill in the missing words with the help of word bank.

Seedpods , cocunut , gravity , scattered , body
leaves , spores , wings , spikes , dandelion

- 1) Seeds are _____ in many different ways.
- 2) Some seeds are sticky or have hooks or _____.
- 3) Some seeds can be scattered by sticking to an animal's _____.
- 4) Maple tree seeds have _____ which help them travel farther through air.
- 5) _____ seeds are very light that which means they are blown through air.
- 6) Heavy seeds fall to the ground because of _____.
- 7) Lupin seeds are the seeds that live in _____.
- 8) _____ is the largest seed in the plant kingdom.
- 9) Some plants grow from _____ rather than seeds.
- 10) Spores are often found on the underside of _____.




Q2: Match the seeds with how it is dispersed.



This seed has wings



Animals



This seed floats



Wind




This seed has hooks that stick to fur



Water

Q3: Draw diagram to show structure of seed and label its parts.




Q4: Draw and labelled the different parts of flower.



Q5: Differentiate between self pollination and cross pollination.

Q6: Draw neat and labelled diagram of self and cross pollination.



Self pollination

Cross pollination

Q7: Write two examples of each:

a) Self pollination

b) Cross pollination

i. How seeds develop in the plants?

ii. How the seedless plants reproduce?

iii. Write the names of male and female parts of flower?

Q8: Choose the correct option and write the answer.

Downwards - energy - two cotyledons

i. When the food inside the seed breaks down, what is released?

Ans: _____

ii. How many cotyledons does a dicot plant have?

Ans: _____

iii. In which direction do the roots of plant grow?

Ans: _____

Unit #5: Topic: Physical and Chemical changes of Matter

Q1: Draw and label the diagram to show the particles of atom.



Q2: Match the column.

Column "A"

- 1) Changing a solid into liquid
- 2) A new substance is formed
- 3) Changing a liquid into a gas
- 4) No new substance is formed
- 5) Changing a liquid into a solid

Column "B"

- Chemical change
- Melting
- Physical change
- Evaporation
- freezing

Q3: Fill in the blanks.

- a) The _____ is the male part of flowers
- b) The _____ is the female part of flowers
- c) The _____ protects the bud before it opens into a flower.
- d) The end result of pollination is the beginning of the process of _____.
- e) The flowers grow into _____ with the developed _____ inside them.
- f) There are two types of reproduction _____ and _____.
- g) A seed needs _____, _____ and _____ for germination.
- h) The process of changing a gas into liquid is called _____.
- i) _____ is an example of chemical change.
- j) Crushing of Aluminum can is an example of _____ change.
- k) A _____ is a combination of two or more different materials.
- l) A _____ is a mixture in which the solid material dissolves in the liquid.

Dr A Q Khan school and
college bahria town ph-8
Summer task
Social studies
Class V



Goods and Services

Jenny is a baker.



1. The jobs that she's doing provide ...

goods service

2. The cake that Jenny baked is the ...

goods service

Read, and then circle the correct answer.

Johnny is a driver.



3. The jobs that he's doing provide ...

goods service

4. Did Johnny produce goods?

yes no

Mr. Jack is a shoe maker.



5. The jobs that he's doing provide ...

goods service

6. The shoes that he made is the ...

goods service



Scanned with CamScanner

Choose if the item is **Goods** (things that people grow or make to sell) or a **SERVICE** (work done to help others)

1. teddy bear

2. fireman

3. dentist

4. cookies

5. carrots

6. ring

7. barber

8. doctor

9. watermelon

10. guitar

11. waiter

12. shirt

13. police

14. towels

15. mailman

16. mechanic

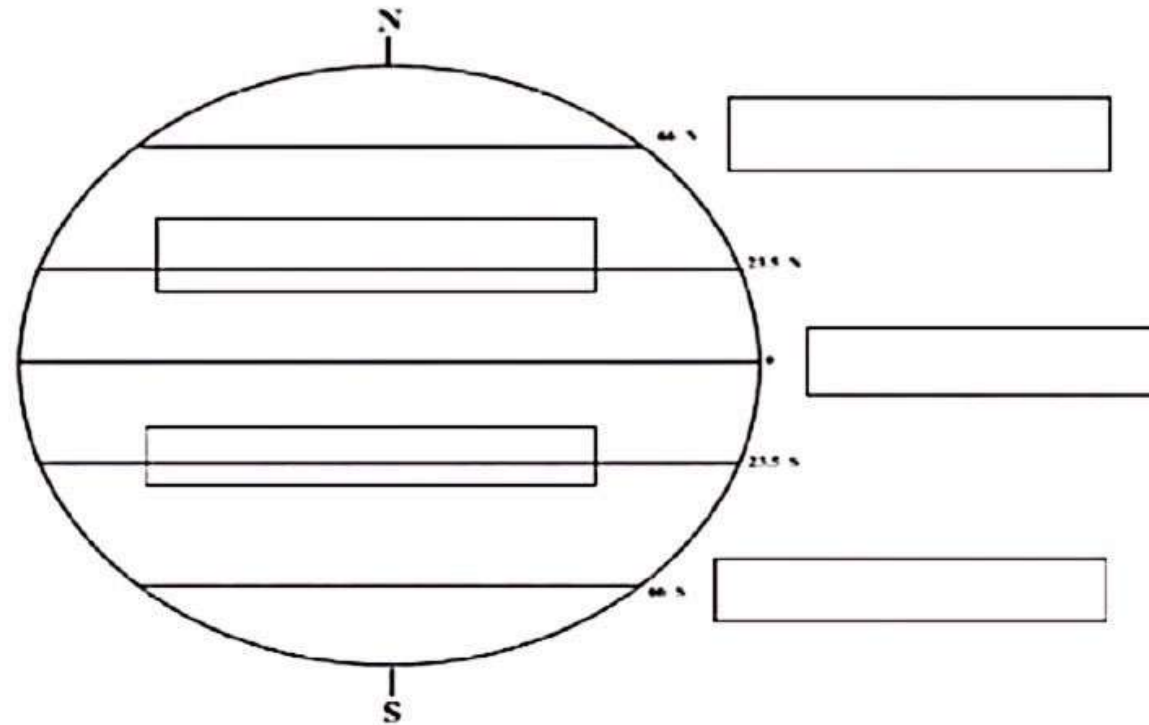
17. chef

18. sandwich

19. cleaners

20. nurse

Label the Lines of Latitude



Antarctic Circle

Equator

Arctic Circle

Tropic of Cancer

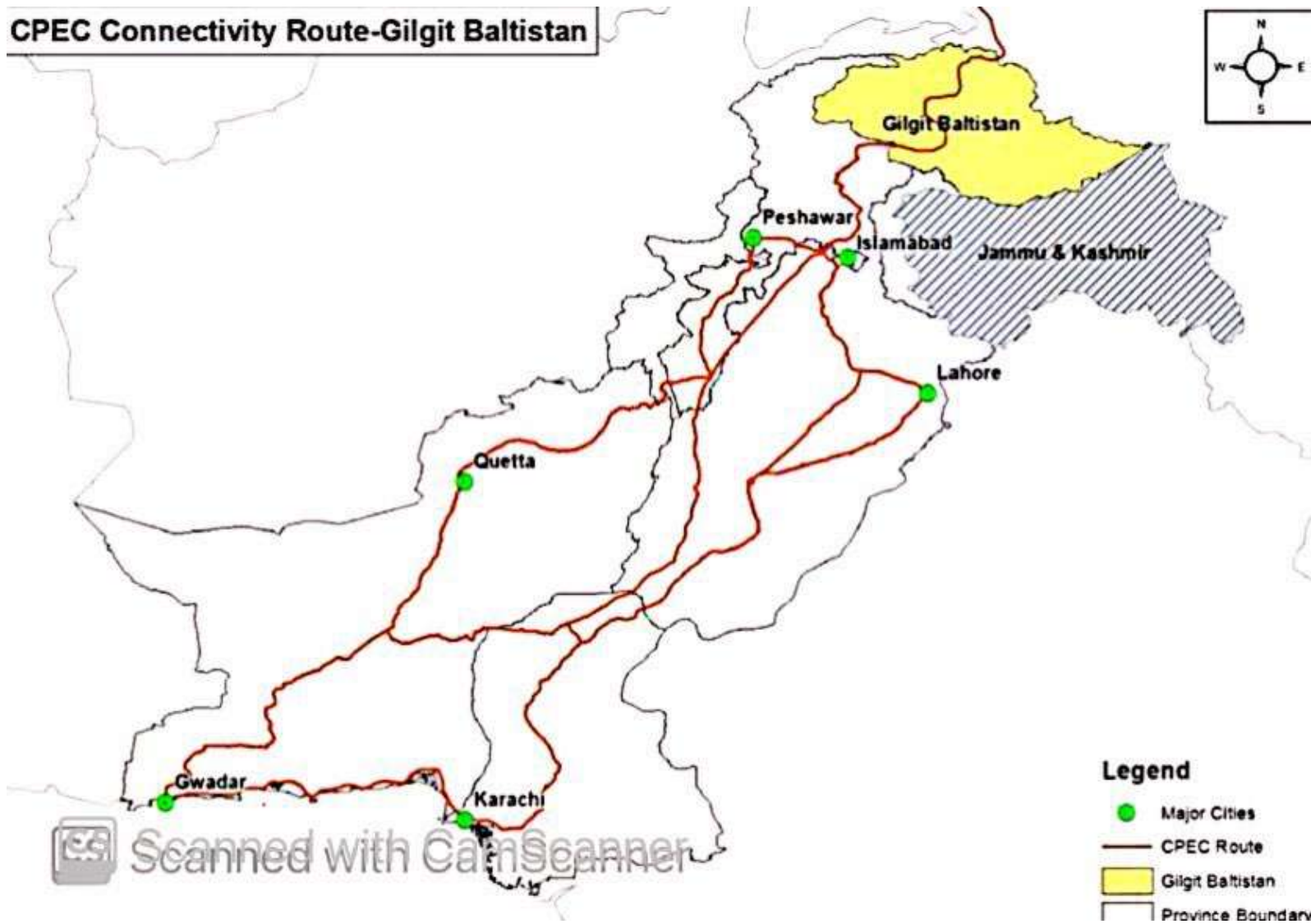
Tropic of Capricorn

Scanned with CamScanner

Pakistan



CPEC Connectivity Route-Gilgit Baltistan



Name: _____

Latitude and Longitude



Write the name of the city and state found at the given latitude and longitude coordinates.

1. 33°N latitude, 112°W longitude _____

2. 35°N latitude, 78°W longitude _____

3. 46°N latitude, 96°W longitude _____

4. 45°N latitude, 122°W longitude _____

5. 29°N latitude, 95°W longitude _____

6. 43°N latitude, 79°W longitude _____

7. 25°N latitude, 80°W longitude _____



Name: _____

Date: _____ Grade: _____

Social Studies

Types of Maps

Instructions: Label the types of maps using the following terms

Political Map	Physical Map	Contour Map	Road Map	Product Map
Vegetation Map	Population Map	Climate Map	Historical Map	Population Maps

Type of Map	Description
	
	
	
Thematic Maps	
	

Physical Maps : Here is the physical map of Pakistan. Fill the key by using Word Bank.



Word Bank

Plains

River

Desert

Lake

Mountains



Learn definitions of Physical Map, Satellite Map and aerial photos and write them.

Satellite Maps:

Physical Maps:

Aerial photos:

Parts of a Map

1. Identify the parts of a map.





The map shows Mexico with the following parts labeled by red arrows:

- Top right: Title (MEXICO)
- Bottom right: Scale bar
- Bottom left: Key
- Center left: Compass rose
- Top left: A specific region (Baja California)
- Left side: A specific city (Tijuana)
- Right side: A specific body of water (Gulf of Mexico)

2. Complete the sentences. Drag.

-

- tell us the place the map shows.
- shows the cardinal points.
- shows the real distance between two points.
- are small pictures that represent real things.
- tells us what each symbol means.





Happy Summer Holidays

15
SUN
CREAM

11:32 PM

DR AQ KHAN SCHOOL AND COLLEGE, BAHRIA TOWN PHASE-8, ISLAMABAD

SUBJECT: MATHEMATICS

CLASS: V

SUMMER TASK

Name: _____

Section: _____

Q1. Fill in the blanks.

- i. In the International system, one million is a _____ digit number.
- ii. The place value of the underlined digit 5 299 287 is _____
- iii. Division is _____ of multiplication.
- iv. HCF stands for _____
- v. $94400 \div 100 =$ _____
- vi. The successor of 143 567 is _____
- vii. LCM of 2 prime numbers is the _____ of the numbers.
- viii. Expanded form of the number 124 568 is

- ix. An _____ number is divisible by 2.
- x. An example of a number which is divisible by 5 and 10 is _____

Q2. Complete the given number patterns.

1	3	5	7	9					
40	38	36	34	32					
12	15	18	21	24					
32	30	28	26	24					

Q3. Find the HCF for each group of prime factors.

- i. $2 \times 2 \times 2 \times 5$
 $2 \times 2 \times 3 \times 5$
 $2 \times 2 \times 5 \times 11$

- ii. $2 \times 3 \times 3 \times 5$
 $2 \times 3 \times 5 \times 7$
 $2 \times 3 \times 3 \times 7$

ii. 39, 81, 65

Q8. Find the LCM of the following sets of numbers by division method.

i. 12, 16, 20

ii. 10, 14, 30

Q9. Solve the following.

i. $\frac{1}{2} - \frac{3}{8}$

ii. $\frac{5}{6} + \frac{2}{5}$

ii. Maham has 36 chocolates. She $\frac{4}{9}$ of them to her best friend Laila, and share the rest between herself and 4 other friends. How many chocolates does Maham get?

iii. If a rocket travels a distance of 75600 km in 120 hours, how many km does it travel in one hour?

iv. A student pays Rs 12300 annually to the school as lab charges. How much does he pay monthly?

ڈاکٹر اے کیو خان اسکول اینڈ کالج بحریہ ٹاؤن راولپنڈی

تفویض کار برائے موسم گرما

مضمون اردو

جماعت پنجم





۱۰
ام صرف، ام گره
لرین

قراء

ہم
س: ام صرف کا استعمال کرتے ہوئے اپنے بارے میں لکھئے۔


آپ کا نام _____ آپ کے اسکول کا نام _____

آپ کے شہر کا نام _____ پندرہ دکانوں کا نام _____

پندرہ استاد کا نام _____ بہترین دوست کا نام _____

پندرہ کتاب کا نام _____ پندرہ ایسے کام _____

س: درج ذیل جملوں میں ام گره الگ کر کے لکھیں۔



ام گره

جملے

گریوں میں پہاڑوں پر برف پڑتی ہے

ہمارے شہر میں کئی سیر گاہاں ہیں

ٹوکی شرق سے کتاب پڑھتی ہے

عورت عمرہ اور تہجد کھانے بنتی ہے

رات کو آسمان پر جہے چمکتے ہیں

کسان کیتوں میں مل چلاتا ہے

گاؤں میں ام کے باغات ہیں

پاکستانی فوج بہادر ہے

س: ذی گنی لہرت میں سے ام صرف کے گروہ اترہ لکھیں۔

لکا . گلاب . ہزی . ولادت . خوبصورت . علم . موسم . گا . دکان . بت

پچھا . نلا . لاہور . تیز . پیر . ہوا . ملی . رنگ . گیند . ٹوکری . پا . ستان



الف ا ح حروف

آ ا ب

قرآن

ہم

قرآن ایسے الفاظ جو ایک سطر کہتے ہوں۔ حروف الف با ہم سے لکھے گئے ہیں۔ مثلاً سورہ آد، سورہ، آتہ، لیرہ


اور ذیل الفاظ کے حروف لکھیے۔

آ	ا	ب
اصل	فول	
بہر	وا	
انہیں	مطلب	
بہت	اہل	

یہ اپنے گروہات میں سے ہر سطر حروف کے الفاظ میں رنگ کریں۔

حرف	گروہات	الفاظ
قرب	ا	قرب
مطلب	قرب	مطلب
وا	پہاؤں	وا
قرب	قرب	قرب
اہل	اہل	اہل
کن	شعاع	کن

یہ الفاظ لکھیے اور ان کے حروف لکھ کر جملے بنا لیں۔



اپنی بات بہت خوب ہے

ہم پاکستان بہت خوب ہے

حرف کے ا سے اہل کی بات لکھی گئی تھی۔



۱۰
الفاظ / حروف
قرین:

قراہ

نام _____
میں لکھا کہ وہ الفاظ کے متضاد لکھ کر مجھے دو بارہ لکھیں۔

	۱۔ وہ ای جان رات کو میرے سوتی ہیں۔
	۲۔ وہ لٹاؤں میں سرئی طال۔
	۳۔ لہلہ کر رہنے سے نخرت درمئی ہے۔
	۴۔ چتہاٹ میں سرخ مرقی زیادہ اٹا۔
	۵۔ شور میں کام جلدی ہو جاتا ہے۔
	۶۔ محنت کرنے سے انسان کام ہو جاتا ہے۔
	۷۔ زندگی اور ہنسی ساتھ ساتھ چلتے ہیں۔

۸۔ نام "الف" میں اپنے گئے الفاظ کے متضاد "ب" میں لکھی کریں۔ اور "ج" میں لکھیں۔



کالم "الف"	کالم "ب"	کالم "ج"
سہان	م	
ہدی	نئی	
خرقی	میرا	
دھڑ	پھنس	
بڑل	لم	
گھ	ڈک	
تارین	ہا	
بیت	داتا	
غاس	بھاو	



نام: _____

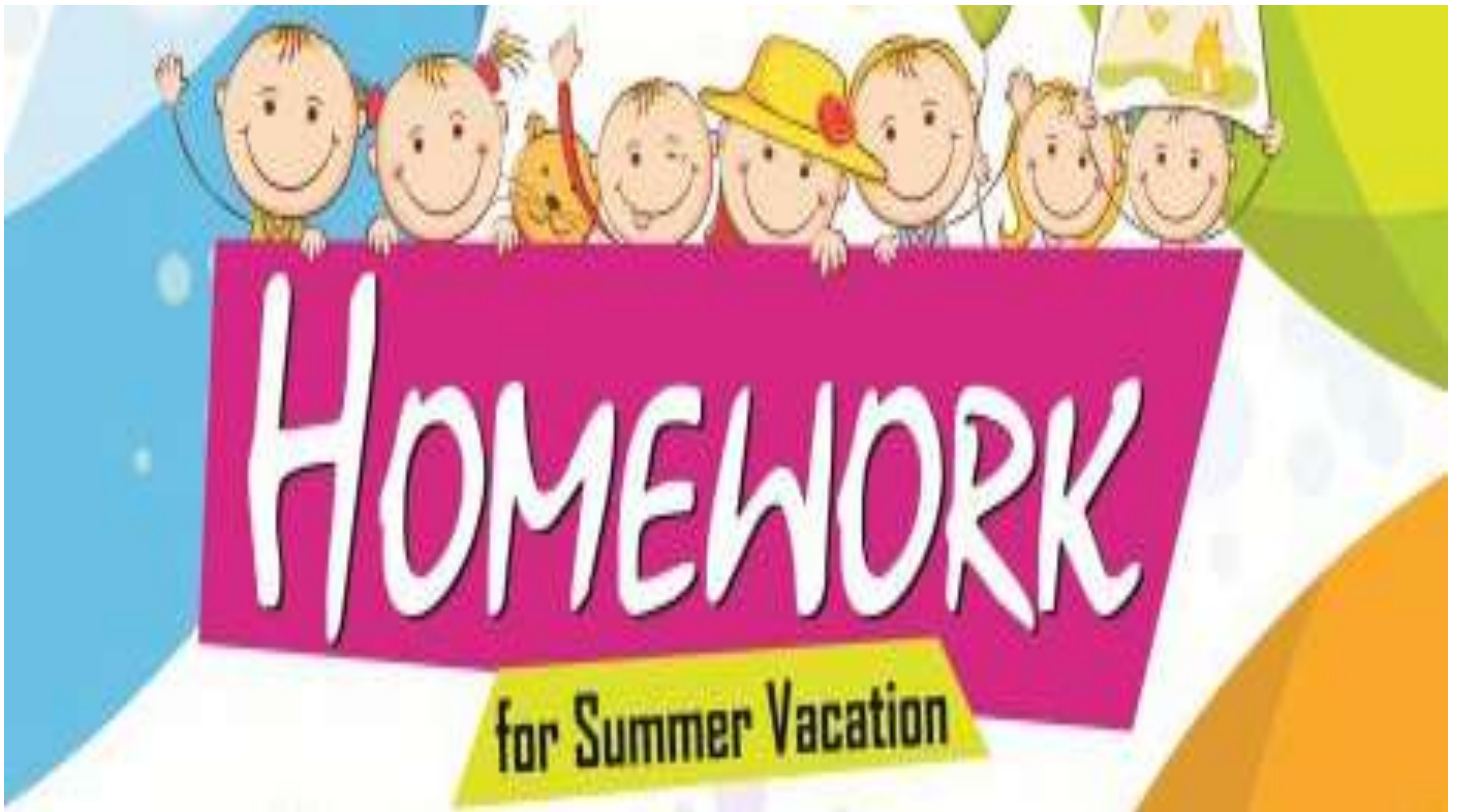
ہم
مندرجہ ذیل دستخطوں میں دستخط لکھیے۔



نام _____
مندرجہ ذیل تصاویر کی مدد سے کہانی لکھیں۔

۱۰
فرق:





CLASS V

SUBJECT: COMPUTER



Dr. A. Q. KHAN SCHOOL & COLLEGE, BAHRIA TOWN, PHASE-8, ISLAMABAD

Match the following labels with their logo's

Google Chrome



Microsoft Excel



Facebook



Microsoft Word



youtube



Google Mail (Gmail)



Windows





COMPUTER

Name:..... Class: 5 Date: ...\...\... F.M 20

1. Read the following paragraph carefully. (5 marks)

A computer is a general purpose machine that can be used for a variety of tasks like writing documents, listening to music or controlling a robot. To perform each different task computer uses a different program or software.

The hardware and software components of the computer are interdependent, they work hand in hand to make the computer carry out tasks we want it to do.

Software is a set of programs which guides a computer to accomplish certain tasks. The process of developing software is called Programming and the people who write the programs are called Programmers.

Software can be broadly categorized into two types – System software and Application software.

Now, answer the following questions. (Get your answers from the paragraph itself)

1. Why does the computer need to use different software?

.....

2. What is the relation between hardware and software?

.....

3. What is software?

.....

4. Who are programmers?

.....

5. What are the two broad categories of software?

.....

2. Identify the type of software: (5 marks)

a) Software designed to create brochures and layout of books.

b) Software that manages and controls computer hardware.

c) The most basic software installed in the computer, which serves as an interface between the user and the hardware.

d) Software which is basically language translation software.

e) Software that scans the computer for viruses.

3. Match the following Software's with their icons and name. (2 marks)

<u>SOFTWARE</u>	<u>ICON and NAME</u>
Operating System	 WinZip
Antivirus	 GNU Linux
Compression	 Windows Movie maker
Graphics software	 Photoshop
Multimedia	 Avira

4. Application based question. (4 marks)

a) Atul works as a designer in a publishing house where brochures, posters, magazines are created. Which type of software does he need to use?

.....
.....

b) Saanvi and her friends have to create a presentation on Independence Day for their school assembly . Which type of software do they need to use?

.....
.....

5. State whether the following statements are true or false.

Rewrite the false statements correctly. (4 marks)

a) MS Windows is application software.

.....
.....

b) Adobe Photoshop is an example of spreadsheet software.

.....
.....

c) The set of instructions given to the computer is called a program.

.....
.....

d) Antivirus software is a language processing software.



Note : Read Unit # 1 in your computer book and watch the video on the link <http://youtu.be/tSodBEA1z9Y> Then answer the following questions.

Q1 What is computer Networking?

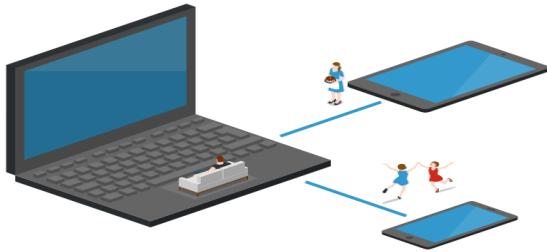
Q2 What are the four types of computer network?

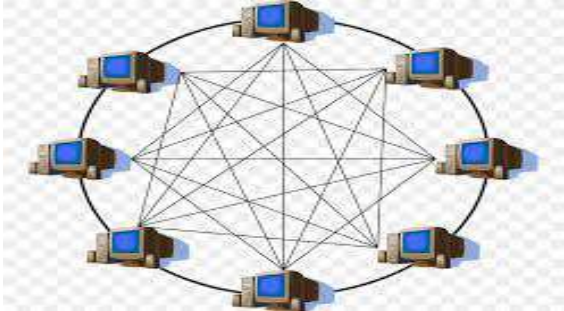
Q3 What is Internet?

Q4 What are the advantages of Computer Networking?



Write the correct Type of Networking below to each image.











Enjoy your
SUMMER
Vacation

ڈاکٹر اے کیو خان سکول اینڈ کالج، بحریہ ٹاؤن فیئر ۸
مضمون: اسلامیات
جماعت: پنجم

ختم نبوت اور اطاعتِ رسول ﷺ

س۔ درست بیان پر دائرہ لگائیں۔

۱۔ قرآن مجید میں نبی کریم ﷺ کو کہا گیا ہے:

الف۔ خاتم النبیین

ب۔ کلمۃ اللہ

ج۔ خلیل اللہ

د۔ خلیفۃ اللہ

س۔ خالی جگہ پر کریں۔

۱۔ زندگی کے تمام معاملات میں _____ سنتِ نبوی ﷺ سے ملتی ہے۔

۲۔ سیرتِ مبارکہ ﷺ _____ کی عملی تفسیر ہے۔

س۔ ۱۔ سنتِ نبوی ﷺ کا مفہوم بیان کریں؟

سرگرمی: عقیدہ ختم نبوت ﷺ ایک آیت اور حدیث خوبصورتی سے چارٹ پر لکھیں۔

ختم نبوت اور اطاعتِ رسول ﷺ

س۔ درست بیان پر دائرہ لگائیں۔

۱۔ اللہ تعالیٰ نے آپ ﷺ پر کتاب نازل کی۔

الف۔ تورات مقدس ب۔ زبور مقدس

ج۔ انجیل مقدس د۔ قرآن مجید

س۔ خالی جگہ پر کریں۔

۱۔ اطاعت کے لفظی معنی _____ کے ہیں۔

۲۔ نجات اور کامیابی کے لیے آپ ﷺ کی _____ ضروری ہے۔

مختصر جواب لکھیں۔

س۔ ۱۔ اطاعت رسول ﷺ ہم سے کیا تقاضا کرتی ہے؟

سرگرمی: اپنا جائزہ لیں کہ آپ اپنے روزمرہ معاملات میں کون کون سی سنت پر عمل کرتے ہیں ایک فہرست بنائیں۔

عمیدین

س۔ خالی جگہ پر کریں۔

۱۔ عید الفطر رمضان المبارک کے روزوں کا _____ ہے۔

۲۔ عید کے لیے _____ نہیں دی جاتی۔

۳۔ قربانی کے جانور کے _____ بدلے میں ایک نیکی ملے گی۔

مختصر جواب لکھیں۔

س ۱۔ عمیدین سے کیا مراد ہے؟

س ۲۔ فطرانہ کسے کہتے ہیں؟

سرگرمی: عمیدین پر تکبیرات خوشخط انداز میں چارٹ پر لکھیں۔

معراج النبی ﷺ

س۔ درست بیان پر دائرہ لگائیں۔

ا۔ بیت المعمور عین اوپر ہے:

الف۔ بیت المقدس ب۔ خانہ کعبہ

ج۔ مسجد اقصیٰ د۔ مسجد نبوی کے

۲۔ عرشِ معلیٰ موجود ہے:

الف۔ پہلے آسمان پر ب۔ چوتھے آسمان پر

ج۔ ساتویں آسمان پر د۔ آسمانوں سے اوپر

مختصر جواب لکھیں۔

س ا۔ سفر معراج سے کیا مراد ہے؟

سرگرمی: سیرت النبی ﷺ کی کتاب سے واقعہ معراج تفصیل سے پڑھیں۔

ایفائے عہد

س۔ خالی جگہ پر کریں۔

۱۔ وعدے کے بارے میں _____ کے دن پوچھا جائے گا۔

۲۔ ہماری ذمہ داریاں بھی ایک _____ ہیں۔

مختصر جواب لکھیں۔

س۔ ۱۔ ایفائے عہد کے دو فوائد لکھیں۔

س۔ ۱۔ منافق کی تین نشانیاں لکھیں۔

سرگرمی: وعدے کو پورا کرنے کے بارے میں سیرت النبی ﷺ سے کوئی واقعہ پڑھیں اور تحریر کریں۔

حضرت داؤد علیہ السلام

س۔ درست بیان پر دائرہ لگائیں۔

۱۔ حضرت داؤد علیہ السلام کے ہاتھ میں موم کی طرح نرم ہو جاتا تھا:

الف۔ لکڑی ب۔ لوہا

ج۔ سونا د۔ پتھر

س۔ خالی جگہ پر کریں۔

۱۔ حضرت داؤد علیہ السلام لوہے سے _____ بنا لیتے تھے۔

۲۔ حضرت داؤد علیہ السلام _____ کے کاموں میں اپنی مثال آپ تھے۔

س۔ مختصر جواب لکھیں۔

س۱۔ حضرت داؤد علیہ السلام کے معجزات لکھیں۔

سرگرمی: قصص الانبیاء سے حضرت داؤد علیہ السلام کے بارے میں پڑھیں اور اپنے ساتھیوں کو بتائیں۔

سورة الفاتحة

س۔ سورة الفاتحة کا ترجمہ لکھیں۔

بِسْمِ اللّٰهِ الرَّحْمٰنِ الرَّحِیْمِ
الْحَمْدُ لِلّٰهِ رَبِّ الْعَالَمِیْنَ
مَلِكِ یَوْمِ الدِّیْنِ
اِهْدِنَا الصِّرَاطَ الْمُسْتَقِیْمَ
صِرَاطَ الَّذِیْنَ اَنْعَمْتَ
عَلَيْهِمْ
غَیْرِ الْمَغْضُوْبِ عَلَيْهِمْ
وَلَا الضَّالِّیْنَ

احادیث نبوی ﷺ

س۔ احادیث نبوی ﷺ کا ترجمہ لکھیں۔



ترجمہ

إذا لم تستحى فافعل ما شئت

ترجمہ

عملی کام

حفظ:

سورۃ الفیل، چار قیل، سفر کی دعا

ناظرہ:

پارہ نمبر ۱۹ اور ۲۰

۱۔ روزانہ قرآن مجید کی کم از کم پانچ آیات کی تلاوت کریں۔ سورۃ القلم ترجمہ تفسیر کے ساتھ والدین کی مدد سے پڑھیں۔

۲۔ پارہ نمبر ۱۹ اور ۲۰ کی تجوید کے ساتھ روزانہ تلاوت کا اہتمام کریں اور تلاوت قرآن کو معمول بنائیں۔

۳۔ پانچ وقت نماز کا خصوصی اہتمام کریں۔

۴۔ کم از کم ایک سیرت صلی اللہ علیہ وسلم کی کتاب کا مطالعہ کریں جو بھی آسانی سے میسر ہو۔

۵۔ قرآن مجید میں دس انبیاء کے قصے پڑھیں یا والدین سے رات کو سوتے وقت سنیں۔

۶۔ سفر کی دعا اور مکمل نماز یاد کریں۔

۷۔ پانچ احادیث یاد کریں۔

۸۔ روزانہ جائزہ فارم فل کریں تاکہ آپ کے کی شخصیت میں باقاعدگی آئے۔

ہدایات

۱۔ طلباء و طالبات تمام کام والدین کی زیر نگرانی کریں گے۔

۲۔ کام بھرپور توجہ سے کریں تاکہ کام غلطیوں سے مبرا ہو۔

۳۔ کاپی اور کتاب پر کروائے گئے تمام کام کو امتحان کی تیاری کے لیے اچھی طرح دہرائی کریں۔

